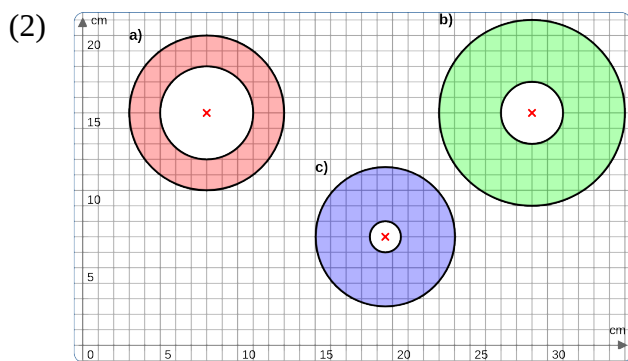
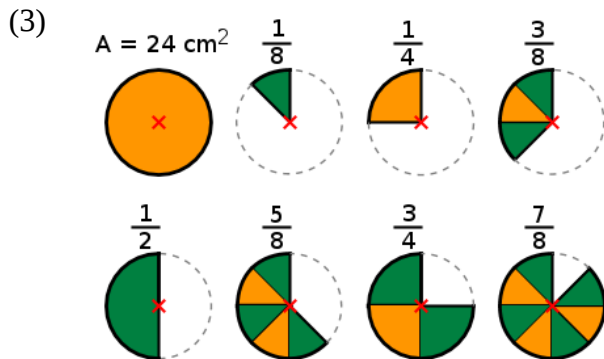


a) Berechne den Umfang als Vielfaches von Pi.

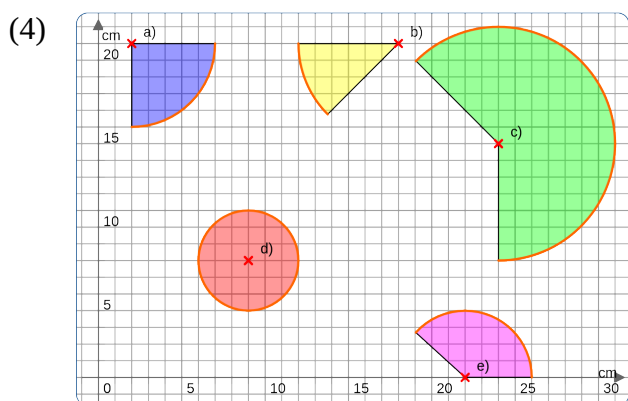
b) Berechne die Kreisflächen als Vielfaches von Pi.



Berechne den Flächeninhalt der Kreisringe als Vielfaches von Pi.



Berechne die Fläche der Kreissektoren (Kreisteile).



a) Berechne die Länge der Kreisbögen als Vielfaches von Pi.

b) Berechne die Fläche der Kreissektoren als Vielfaches von Pi.