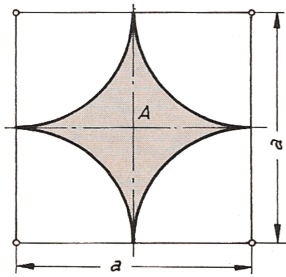


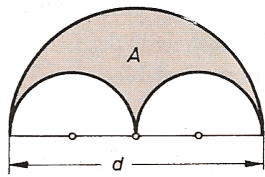
(1)



Berechne den Flächeninhalt A

- a) für  $a = 70 \text{ cm}$
- b) allgemein mit  $a$
- c) Wieviel Prozent macht die schraffierte Fläche aus?

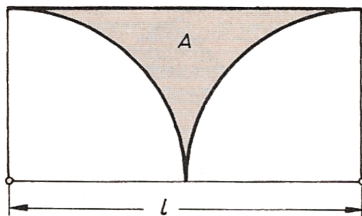
(2)



Berechne den Flächeninhalt A

- a) für  $d = 50 \text{ cm}$
- b) allgemein mit  $d$

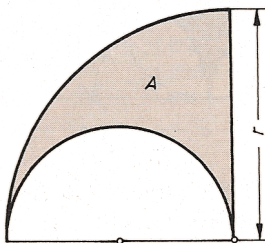
(3)



Berechne den Flächeninhalt A

- a) für  $l = 16 \text{ cm}$
- b) allgemein mit  $l$
- c) Wieviel Prozent macht die schraffierte Fläche aus?

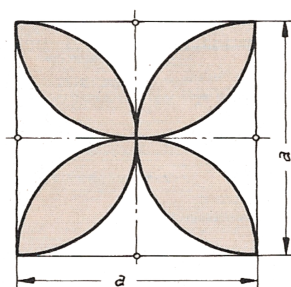
(4)



Berechne den Flächeninhalt A

- a) für  $r = 32 \text{ cm}$
- b) allgemein mit  $r$

(5)



Berechne den Flächeninhalt A

- a) für  $a = 40 \text{ cm}$
- b) allgemein mit  $a$
- c) Wieviel Prozent macht die schraffierte Fläche aus?