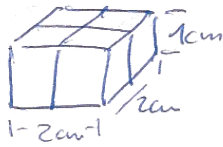
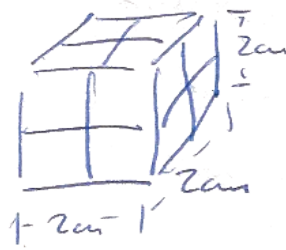


(1) Wieviele cm^3 sind das?

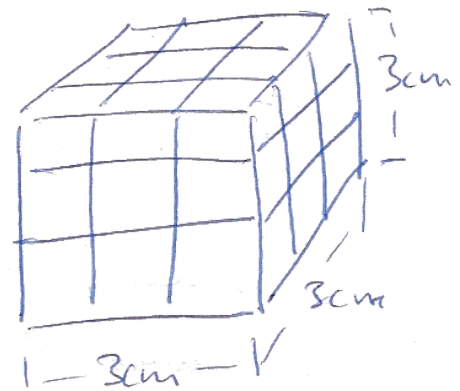
a)



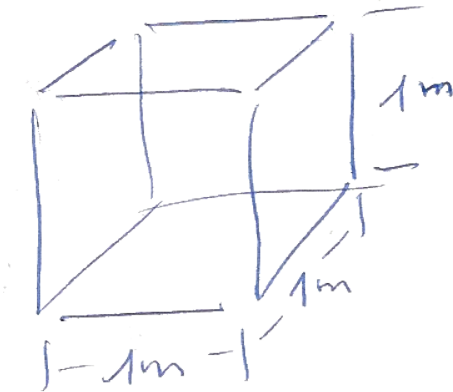
b)



c)



(2)

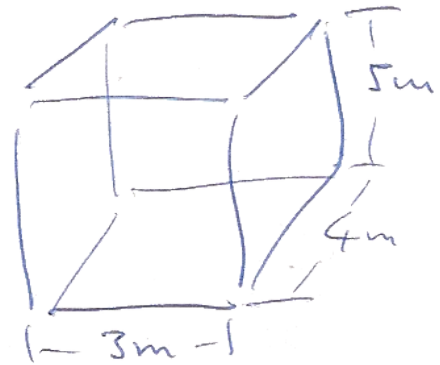


Rechne um in..

a) dm^3

b) cm^3

(3)



Das sind wieviele.. ?

a) m^3

b) Liter

(3) 4 Liter sind wieviele..

a) cm^3

b) dm^3

c) m^3

(4) a) Wieviele m^3 gehen in eine Badewanne von 2m Länge, 70cm Breite und 50cm Tiefe?

b) Wieviele Liter sind das?

c) Wieviele Liter sind in der Wanne, wenn sie nur zu 40% gefüllt ist?