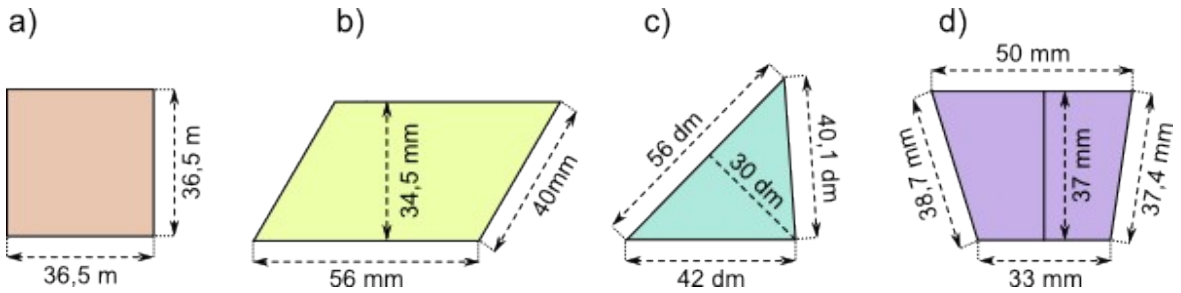
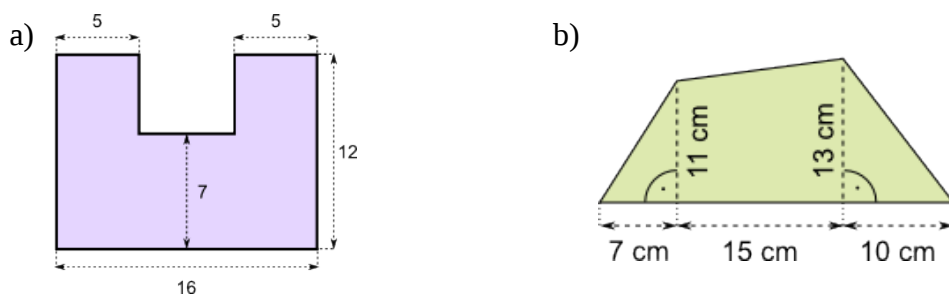


(1) Berechne die Fläche.

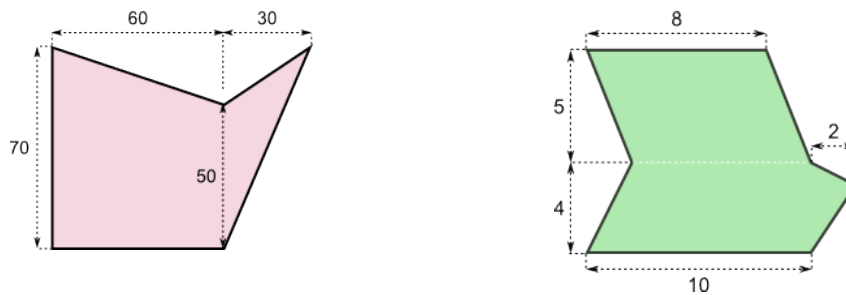


(2) Berechne die Fläche.



(3) Ein Zimmer ist 6m lang, 4m breit und 3m hoch. Es gibt eine Türe 2m x 1m und zwei Fenster 1.5m x 2m. Für wie viel Quadratmeter braucht man Farbe, um die Wände des Zimmers neu zu streichen?

(4) Berechne die Fläche.



(5) Berechne die Fläche.

